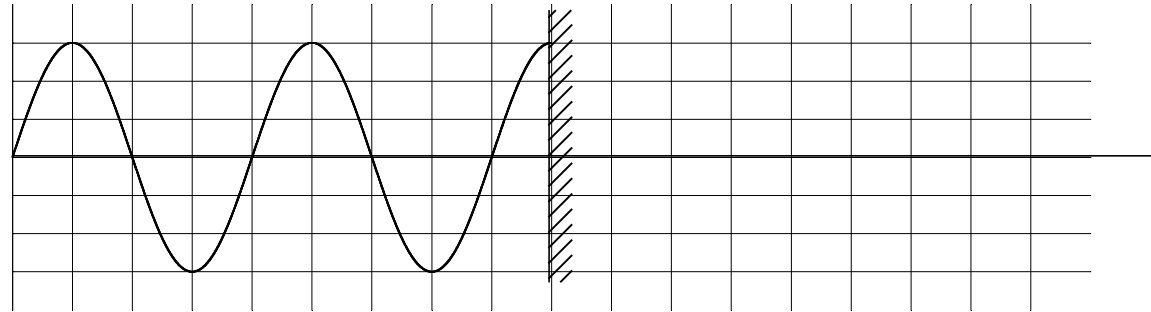
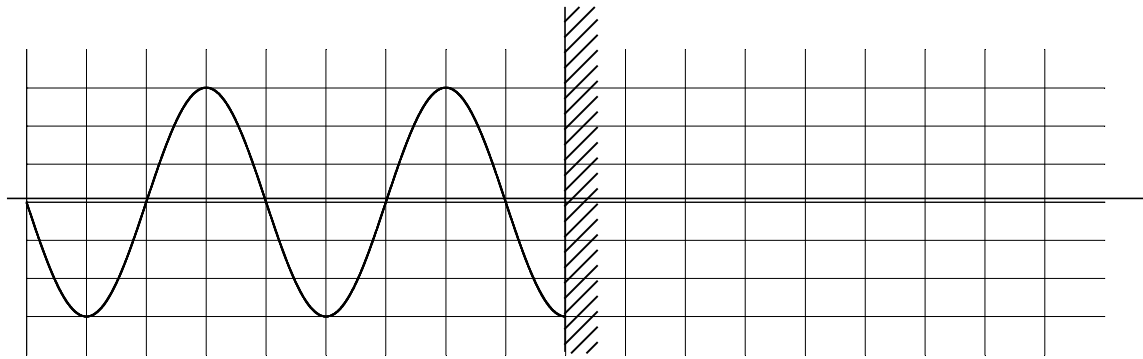


物理基礎範囲 正弦波⑦

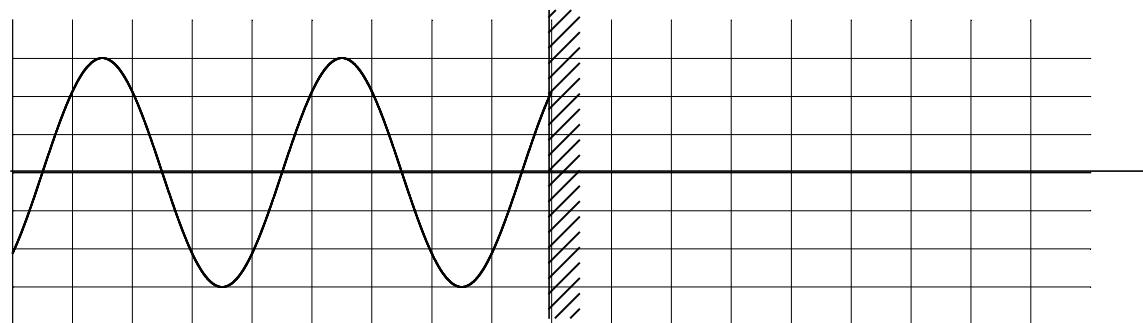
[問8] ある瞬間に壁に入射している波が図のようであるとき、波は**自由端反射**するとして、反射波のだいたいの様子を書け。



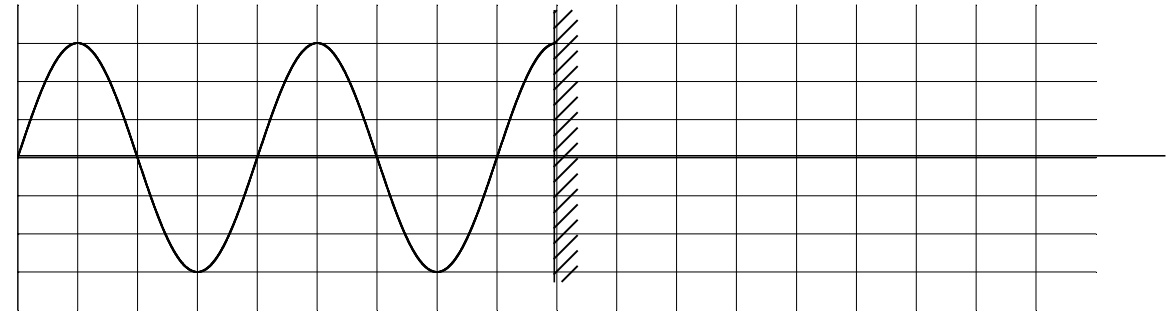
[問9] ある瞬間に壁に入射している波が図のようであるとき、波は**自由端反射**するとして、反射波のだいたいの様子を書け。



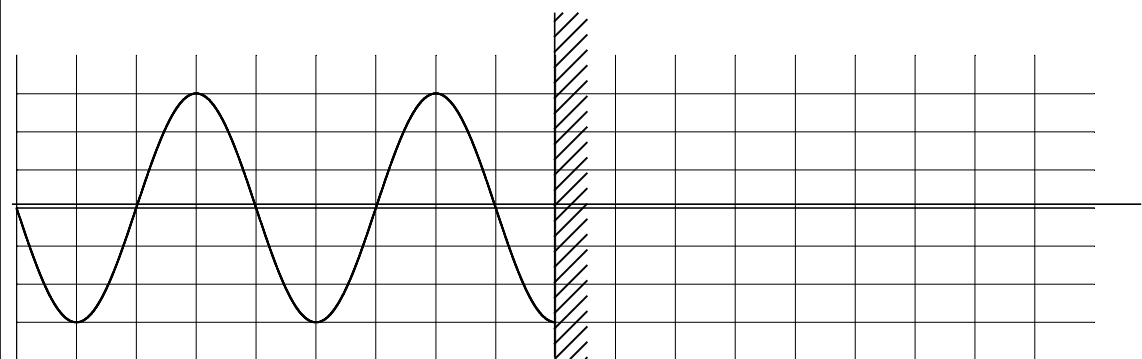
[問10] ある瞬間に壁に入射している波が図のようであるとき、波は**自由端反射**するとして、反射波のだいたいの様子を書け。



[問11] ある瞬間に壁に入射している波が図のようであるとき、波は**固定端反射**するとして、反射波のだいたいの様子を書け。



[問12] ある瞬間に壁に入射している波が図のようであるとき、波は**固定端反射**するとして、反射波のだいたいの様子を書け。



[問13] ある瞬間に壁に入射している波が図のようであるとき、波は**固定端反射**するとして、反射波のだいたいの様子を書け。

