

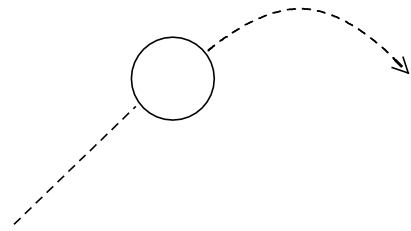
【力の見つけ方】絶対に絶対に絶対に覚えよう！！

① _____

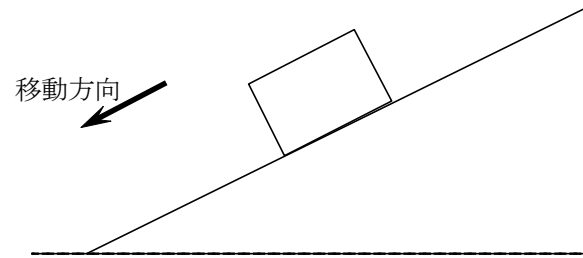
② _____

[問28] 次の物体に働く力を矢印で書け。なお、力の名称も書くこと。

(1) 空中を飛ぶボール

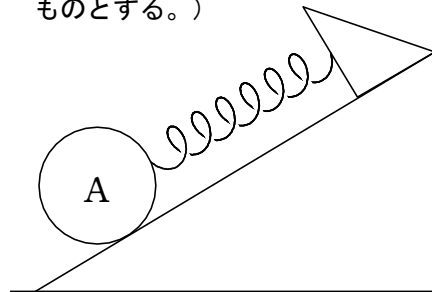


(2) 摩擦のある斜面上の物体
(下方へ落下中)

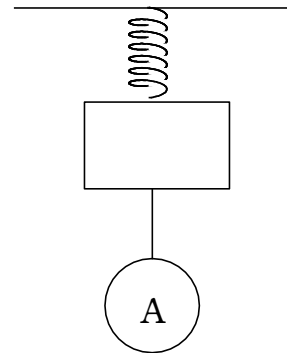


(3) ばねにつながれた物体

(なめらかな斜面上。ばねは伸びているものとする。)

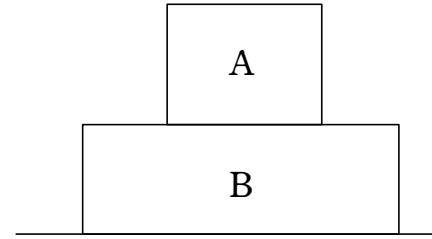


(4) Aに働く力は??



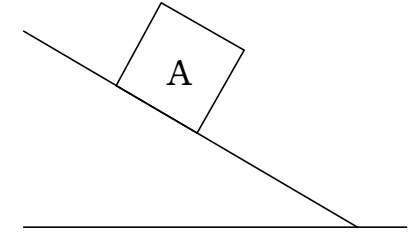
[問29] 次の図の物体A,Bに働く力を矢印で記入し、その名称を書け。

(1) A,Bは静止している。

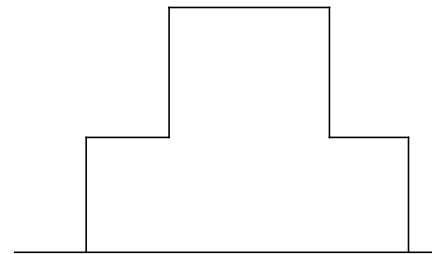


(2) Aは静止している。

(なぜ静止できてるかがポイント)



(3) 全体に働く外力



(4) 摩擦力のある動くコンベア上の物体

